




# Týden geografie 2010 - soutěžní otázky „Nový pohled na staré Ústí“

Pokyny: pošlete odpovědi na níže uvedené otázky formou e-mailu na adresu pořadatelů akce (pavel.raska@ujep.cz) do 15. 11. 2010 (10.00). V e-mailu uveďte očíslované odpovědi a své celé jméno a adresu. Do předmětu zprávy napište Soutěž TG 2010.



- 1 Která část města Ústí nad Labem je na fotografii?
- 2 Ve které ulici se nachází fotografovaná budova?
- 3 Která instituce (celý název) sídlí v této budově?
- 4 Co se dnes nachází na místě, odkud je fotografie pořízena?
- 5 Z jakého důvodu dnes lidé navštěvují fotografovanou budovu?
- 6 V kolik hodin zavírá v pondělí současná restaurace v této budově?
- 7 Kolik komínů s výškou přes 50 m se dnes nachází ve fotografovaném území?